




ملهمون
منصة ملهمون التعليمية

هذا وطني

الفصل الدراسي الأول

إعداد : الأنس الفليتيّة



 @2XNZI

zadelm.com

الواجب المنزلي	التقرير	الاختبار الثاني	الاختبار الأول	
				الدرجة
				الملاحظات

الإختبار القصير الثاني

الإختبار القصير الأول

التاريخ :

التاريخ :

اليوم :

اليوم :

الدرجة :

الدرجة :

الدروس :

الدروس :

الوحدة الأولى: عُمان... تاريخ وحضارة

الدرس الأول : عُمان في عصر النباهنة... حضارة وتواصل

الدرس الثاني : عُمان في عصر اليعاربة... قوة وازدهار

الدرس الثالث : عُمان في عصر البوسعيد... وحدة ومنجزات

الوحدة الثانية: بيئتنا... تنوع وثراء واستدامة

الدرس الأول : البيئة... قضية عالمية ويقظة وطنية

الدرس الثاني : البيئة العُمانية... حماية واستدامة

الدرس الثالث : قضايا بيئية... تحديات عالمية وجهود وطنية



هذا وطني بنك الأسئلة

١- استمر حكم النباهنة لعمان لمدة /

أ- ٤٠٠ عام ب- ٥٠٠ عام ج- ٦٠٠ عام د- ٧٠٠ عام

٢- الشاعر العماني الذي مدح ملوك النباهنة

أ- السنالي ب- راشد بن خميس الحبسي ج- ابن زريق د- أبو مسلم البهلاني

٣- الامام الذي أنهى حكم النباهنة خلال العصر النبهاني الأول

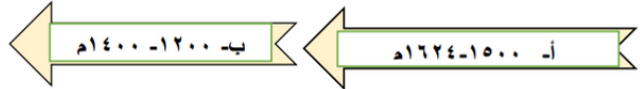
أ- ابي الحسن بن خميس الخروصي ب- الصلت بن مالك

ج- الوارث بن كعب الخروصي د- محمد بن إسماعيل الحاضري

٤- الملك اليميني الذي تبادل معه الملك النبهاني كهلان الهدايا /

أ- أزدرمر ب- ذي نواس ج- توران شاه د- سيف ذي يزن

٥- الخط الزمني لامتداد حكم النباهنة خلال العصر النبهاني الأول



٦- القرنين الميلاديين اللذان بلغت فيه مملكة هرمز أوج ازدهارها /

أ- (١٠- ١١ م) ب- (١٠- ١٢ م) ج- (١٠- ١٣ م) د- (١٠- ١٤ م)

٧- الملك النبهاني الذي هاجر إلى شرقي إفريقيا /

أ- سلطان بن محسن النبهاني ب- سليمان بن نبهان بن مظفر

ج- أبو المعالي كهلان بن عمر د- فلاح بن محسن النبهاني

٨- اللقب الذي أطلق على الملك النبهاني محمد بن أحمد النبهاني بـ /

أ- العظيم ب- الكبير ج- الفاتح د- الناصر

٩- أثر يعود للنباهنة في جزيرة باتي /

أ- ب- ج- د-



ملهمون
منصة ملهمون التعليمية



@2XNZI

إعداد : الأنس الفليتيّة

zadelm.com

هذا وطني بنك الأسئلة

١٠- الرحالة العربي الذي زار عمان زمن النباهنة /

أ- ابن حوقل ب- الإدريسي ج- ابن بطوطة د- المقدسي

١١- الرقم الذي يشير الى المنطقة التي وصفها ابن بطوطة بحسن الاخلاق ومحبة الغرباء /



أ- (١) ب- (٢)

ج- (٣) د- (٤)

١٢- وصل البرتغاليين إلى جزر الحلايب عام /

أ- ١٥٠٦ م ب- ١٥٠٧ م ج- ١٥٠٨ م د- ١٥٠٩ م

١٣- من الآثار التي تعود للنباهنة في عمان /

أ- بيت النعمان ب- بيت البرنده ج- بيت البركة د- بيت المراح

١٤- العام الميلادي الذي قام فيه العمانيون بثورة ضد البرتغاليين عام /

أ- ١٥٢١ م ب- ١٥٢٢ م ج- ١٥٢٣ م د- ١٥٢٤ م

١٥- القائد البرتغالي الذي شن حملة على ساحل عمان /

أ- فاسكودي جاما ب- هينري الملاح د- اليوكيرك د- كولمبس

١٦- الملك النبهاني الذي ادخل ثمرة المانجو إلى عمان /

أ- سليمان بن سليمان بن مظفر ب- فلاح بن محسن النبهاني


ج- محمد بن أحمد النبهاني د- حسام بن سليمان النبهاني

١٧- انتهى حكم النباهنة على عمان في القرن الميلادي /

أ-الرابع عشر ب- الخامس عشر ج- السادس عشر د- السابع عشر

١٨- الصورة التي تشير إلى الحصن الذي بناه النباهنة في ولاية عبري /

أ- ب- ج- د-



هذا وطني بنك الأسئلة

١٩- البلاد التي جلب منها العمانيون زمن النباهنة الأرز /

أ- الهند ب- الصين ج- شرقي إفريقيا د- الخليج العربي

٢٠- في الصورة الواضحة ديوان شعري صاحبه /

أ- موسى بن حسين الحسيني ب- نور الدين السالمي

ج- ابن زريق د- محمد بن شيخان السالمي

٢١- مؤلف النونية الكبرى /

أ- محمد بن عمر بن نيهان ب- أحمد بن ماجد السعدي

ج- حسن الصرنهج د- بشير بن سنان

٢٢- الدولة التي أنهت عصر النباهنة /

أ- اليعاربة ب- اليوسعيد ج- الاموية د- العباسية

٢٣- يشير السهم الى مملكة /

أ- دلمون ب- هرمز

ج- سبا د- معين

٢٤- يوجد الحصن الأسود في /

أ- بات ب- الأصيل ج- البليد د- مقتنيات

٢٥- الجدول الصحيح لسلع التي استوردتها عمان زمن النباهنة /

أ-

الدول	الواردات
الصين	الأرز
الهند	الحريير والتوابل
شرقي إفريقيا	الجلود والعاج

ب-

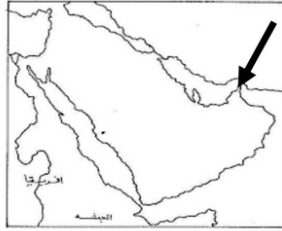
الدول	الواردات
الصين	الحريير
الهند	التوابل والأرز وخشب الساج
شرقي إفريقيا	العاج والخشب والجلود والعنبر

ج-

الدول	الواردات
الصين	الحريير والعاج
الهند	العنبر والخشب
شرقي إفريقيا	الجلود والأرز

د-

الدول	الواردات
الصين	الجلود والحريير
الهند	الأرز والتوابل
شرقي إفريقيا	العنبر وخشب الساج



ملهمون
منصة ملهمون التعليمية



@2XNZI

إعداد : الأنس الفليتيّة

zadelm.com

الملاحظات



مهامون
منصة مهامون التعليمية



@2XNZI

إعداد : الأونس الفليتيّة

zadelm.com

٢٦- احد الحصون البرتغالية في شرقي إفريقيا /

أ- جوا ب- ملقا ج- ماليندي د- سيلان

٢٧- الصورة التي توضح أهم المعالم العمرانية للنباهنة في عمان /

أ- ب- ج- د-



٢٨- الخريطة التي تشير الى موقع ميناء كانتون /

أ- ب- ج- د-



٢٩- المحافظة التي تركزت فيها اشهر المراكز الحضارية للنباهنة خلال العصر النبهاني الأول /

أ- ب- ج- د-



٣٠- ادخلت زراعة الماتجو إلى عمان في عهد الملك النبهاني /

١- محمد بن عمر بن نيهان ب- نيهان أبي المعالي ج- فلاح بن محسن د- سليمان بن سليمان

٣١- المركز الحضاري للنباهنة خلال العصر النبهاني الثاني /

أ- العراقي ب- مقتبات ج- السليف د- العينين

٣٢- ثورة ٣٠ نوفمبر قام بها العمانيون في عام ١٥٢١م ضد /

١- القرس ب- الفرنسيين ج- البرتغاليين د- الانجليز

٣٣- ملك هرمز الذي غزا عمان زمن النباهنة /

أ- توران شاه ب- سابور ج- اردشير د- بهرام



٣٤- المجال الحضاري الذي تعبر عنه الصورة /

- أ- العمراني
ب- الاقتصادي
ج- العلمي
د- الاداري

١- استدل على الصراع بين ملوك النباهنة على الحكم ؟

.....

٢- برهن على تذبذب علاقات النباهنة مع جيرانها بين السلم وحرب ؟

.....

٣- بم تقسر الاتي /

أ- تنوع العلاقات الخارجية لعمان زمن النباهنة ؟

.....

ب- شح المصادر التاريخية التي تناولت أحداث عصر النباهنة ؟

.....

ج- الغزو البرتغالي لعمان ؟

.....

٤- صنف السلع التالية في الجدول الذي أمامك ؟

[الأرز - العنبر - خشب الساج - الحرير - الجلود - التوابل - العاج]

الدول	السلع
الصين	
الهند	
شرقي إفريقيا	

٥- استكمل المخطط الذي يوضح تنظيم المحكمة في عصر النباهنة ؟



٦- أذكر أهم الأعمال التخريبية التي قام بها البرتغاليون أثناء غزوهم لعمان ؟

١-.....٢-.....

٣-.....٤-.....

٧- كيف تأثرت التجارة العمانية بالوجود البرتغالي ؟

.....
.....

٨- بم تفسر عدم نجاح الثورة العمانية ضد البرتغاليين عام ١٥٢١م ؟

.....
.....

٩- علل تعدد مسميات حكام عمان عبر العصور التاريخية ؟

.....
.....

١٠- (اهتم بعض ملوك النباهنة بالعلم والعلماء) دلل على صحة العبارة ؟

.....
.....

١١- عدد النتائج التي ترتبت على الاحداث التالية :

المصاهرة بين سليمان بن نبهان بن مظفر وزعيم جزيرة باتي	الوجود البرتغالي في عمان
.....
.....

١٢- ادرس الصورة التالية ثم أجب عن الآتي /

١- اسم الحصن

٢- موقع الحصن

٣- عدد أبراجه

٤- العام الهجري لانشائه





أ- أدرس الخريطة التي أمامك ثم أجب عن الأسئلة التالية :

- ١- حدد على الخريطة موقع مملكة هرمز
- ٢- الرقم الذي يشير إلى الدولة التي تبادل ملك النباهنة مع ملكها الهدايا (.....)
- ٣- يشير الرقم (٢) إلى المسطح المائي (.....)
- ٤- يشير الرقم (٤) إلى ميناء

- ٩- اذكر نتيجة واحدة ترتبت على الصراعات على السلطة في عصر النباهنة
- ١٠- أعط مثلاً واحداً على الصراعات على السلطة بين الممالك النباهنية .
- ١١ - دلل : شهدت عُمان في عصر النباهنة تجزئة واضحة غابت على إثرها الوحدة الوطنية .
- ١٢ - كانت إمامته إيذاناً بانتهاء العصر النبهاني الأول الامام :
- (الجلندی بن مسعود - محمد بن إسماعيل الحاضري - أبو الحسن بن خميس بن عامر الخروصي - الوراث بن كعب الخروصي)
- ١٣ - دلل على صحة العبارة التالية: (تنوع الأنظمة التي حكمت عُمان) .
- ١٤ - فسر / يعد ديوان الملك النبهاني سليمان بن سليمان مصدراً من مصادر تاريخ عصر النباهنة .
- ١٥ - دلل / توطدت علاقات عُمان الخارجية في العصر النبهاني .
- ١٦ - أعط تعريفاً مختصراً لمملكة هرمز .
- ١٧ - دلل على صحة العبارات التالية :
- * كانت العلاقات وطيدة بين ملوك النباهنة في عمان وملوك اليمن .
- * كانت العلاقات مضطربة بين عمان وهرمز في عصر النباهنة .
- * تطور العلاقات بين عُمان وشرقي أفريقيا تطوراً كبيراً
- ١٨ - اكتب نبذة مختصرة عن الملك النبهاني محمد بن أحمد النبهاني .
- ١٩ - ما النتائج التي ترتبت على هجرة الملك النبهاني سليمان بن نيهان بن مظفر إلى جزيرة باتي .

١- سبب قيام دولة البوسعيد:

- | | |
|---|---|
| أ- الأوضاع السياسية غير المستقرة آواخر عصر اليعاربة | ب- الأوضاع السياسية غير المستقرة آواخر عصر النباهنة |
| ج- الأوضاع الاقتصادية غير المستقرة آواخر عصر اليعاربة | د- الأوضاع الاقتصادية غير المستقرة آواخر عصر النباهنة |

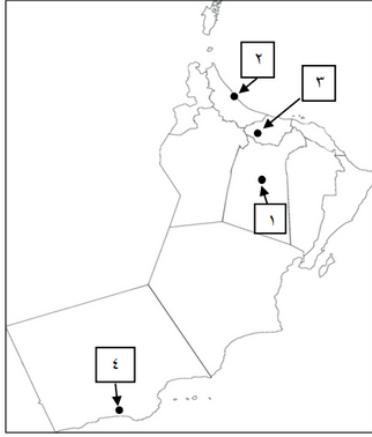
٢- مؤسس دولة البوسعيد:

- | | | | |
|-----------------------|-------------------------|------------------------|--------------------------|
| أ- الإمام عزان بن قيس | ب- السلطان فيصل بن تركي | ج- الإمام أحمد بن سعيد | د- السلطان سعيد بن تيمور |
|-----------------------|-------------------------|------------------------|--------------------------|



هذا وطني بنك الأسئلة

٣- المخطط الصحيح للأرقام التي تشير على الخريطة للولايات العمانية في عهد الإمام أحمد بن سعيد والحدث الذي ارتبط بها :



ب	
الرقم	الأحداث
١	توفي ودفن فيها
٢	ولد فيها
٣	واليا عليها

أ	
الأحداث	الرقم
واليا عليها	١
ولد فيها	٢
توفي ودفن فيها	٣

د	
الرقم	الأحداث
١	ولد فيها
٢	واليا عليها
٣	توفي ودفن فيها

ج	
الأحداث	الرقم
توفي ودفن فيها	١
واليا عليها	٢
ولد فيها	٣

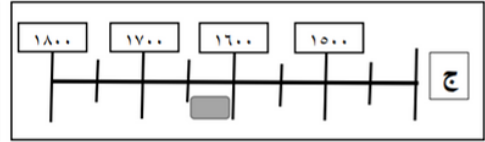
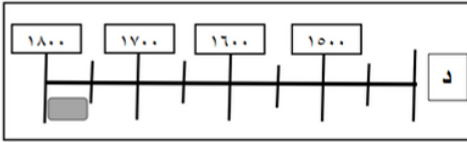
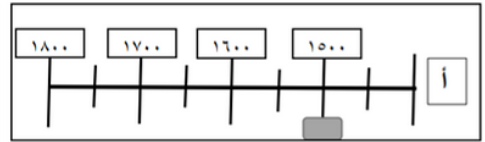
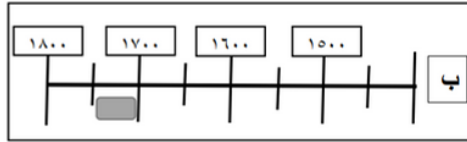
٥- الفترة الزمنية التي كان الإمام أحمد بن سعيد واليا على صحار :

أ- أوائل عصر النهضة ب- أواخر عصر النهضة ج- أوائل عصر اليعاربة د- أواخر عصر اليعاربة

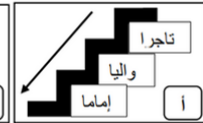
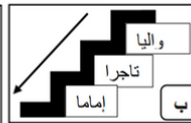
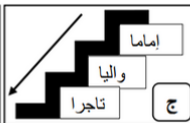
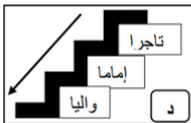
٦- القرن الميلادي الذي تأسست فيه دولة البوسعيد :

أ- السادس عشر ب- السابع عشر ج- الثامن عشر د- التاسع عشر

٧- التظليل الزمني الصحيح لبداية حكم دولة البوسعيد بالميلادي :



٨- الترتيب الصحيح للمهن التي شغلها أحمد بن سعيد من الأقدم إلى الأحدث :



الملاحظات



مهامون
منصة مهامون التعليمية



@2XNZI

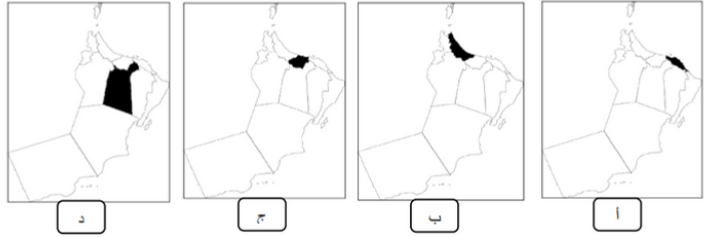
إعداد : الأونس الفليتيّة

zadelm.com

٩- الجدول الصحيح لأعمال الإمام أحمد بن سعيد:

د	ج	ب	أ
توحيد البلاد وطرد الفرس	توحيد البلاد وطرد الفرس	توحيد البلاد والحفاظ على استقلالها	توحيد البلاد والحفاظ على استقلالها
تحرير البصرة من الفرس	تحرير البحرين من الفرس	تحرير البحرين من الفرس	تحرير البصرة من الفرس
تأسيس جيشا قويا وثابتا	تأسيس جيشا قويا وثابتا	تأسيس جيشا قويا وثابتا	تأسيس جيشا قويا وثابتا

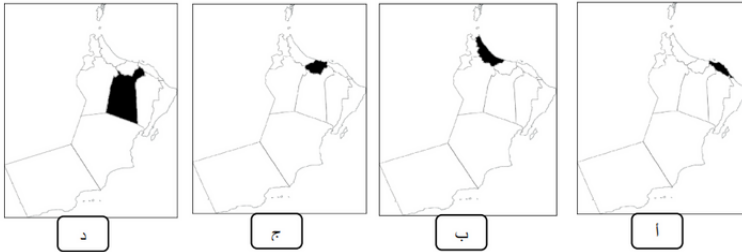
١٠- التظليل الصحيح على الخريطة للمحافظة العمانية التي كان الإمام أحمد بن سعيد واليا على إحدى ولاياتها:



١١- التظليل الصحيح على الخريطة للمحافظة العمانية التي اختار الإمام أحمد بن سعيد إحدى مدنها عاصمة له:



١٢- التظليل الصحيح على الخريطة للمحافظة العمانية التي ولد فيها الإمام أحمد بن سعيد:



١٣- المحافظة العمانية التي ولد فيها العلامة حبيب بن سالم أمبوسعيد:

د-مسقط

ج-الباطنة جنوب

ب-الظاهرة

أ-الداخلية



ملهمون
منصة ملهمون التعليمية



@2XNZI

إعداد : الأنس الفليتيّة

zadelm.com

هذا وطني بنك الأسئلة

١٤- جميع ما يلي من أعمال العلامة حبيب بن سالم أمبوسعيد في أواخر عصر اليعاربة ماعدا:

أ- عزل الإمام بلعرب بن حمير ب- طرد الفرس ج- إغراق أموال سيف بن سلطان الثاني د- عقد الإمامة لأحمد بن سعيد

١٦- أهم المنجزات العسكرية في عصر حكام البوسعيد

أ- الحرس ب- الجيش ج- الشرطة د- الأسطول

١٨- الرقم الذي يشير للدولة التي حررها السيد سلطان بن أحمد من الفرس:

أ- (١) ب- (٢) ج- (٣) د- (٤)

١٩- الإمام الذي حرر المدينة المشار إليها بالرقم (٣) على الخريطة:

أ- عزان بن قيس ب- فيصل بن تركي ج- أحمد بن سعيد د- سعيد بن تيمور

٢٠- العام الذي حررت فيه المدينة المشار إليها بالرقم (٣) على الخريطة:

أ- ١٧٧٥م ب- ١٧٧٦م ج- ١٧٧٧م د- ١٧٧٨م

٢١- الحصار الذي حررت منه المنطقتين المشار إليهما على الخريطة بالأرقام (٢) و (٣):

أ- البرتغالي ب- البريطاني ج- الياباني د- الفارسي

٢٢- الخريطة التي تشير للدولة التي حررها السيد سلطان بن أحمد:



د



ج



ب

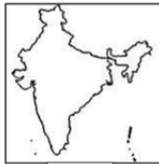


أ

٢٤- الخريطة التي تشير للدولة التي زارها السلطان سعيد بن تيمور كأول حاكم عربي:



د



ج



ب



أ



هذا وطني بنك الأسئلة

٢٦- نوع العلاقات والاتفاقيات التي عقدها السلطان سعيد بن تيمور مع الدول المظلة على الخريطة أمامك:



أ- صداقة وعسكرية

ب- صداقة وسياسية

ج- صداقة واقتصادية

د- صداقة وصحية

٢٧- الجدول الصحيح للقارات التي زار السلطان سعيد بن تيمور دولها:

ب	
١	آسيا
٢	إفريقيا
٣	أوروبا
٤	أمريكا الجنوبية

أ	
١	آسيا
٢	إفريقيا
٣	أوروبا
٤	أمريكا الشمالية

د	
١	آسيا
٢	أمريكا الجنوبية
٣	أوروبا
٤	أمريكا الشمالية

ج	
١	أمريكا الجنوبية
٢	إفريقيا
٣	أوروبا
٤	أمريكا الشمالية

٢٨- عدد الدول التي زارها السلطان سعيد بن تيمور:

د- ٥

ج- ٤

ب- ٣

أ- ٢

٣٣- مؤسس النهضة العمانية الحديثة السلطان:

د- فيصل بن تركي

ج- سعيد بن تيمور

ب- هيثم بن طارق

أ- قابوس بن سعيد

٣٤- القوى المتنافسة التي استطاع السلطان فيصل بن تركي إقامة علاقات متوازنة معها:

د- الأمريكية الشمالية

ج- الأفريقية

ب- الآسيوية

أ- الأوروبية



ملهمون
منصة ملهمون التعليمية



@2XNZI

إعداد : الأنس الفليتيّة

zadelm.com

٣٥- التاريخ الصحيح للنهضة العمانية الحديثة:

أ- ٢٣ / يوليو / ١٩٧٠ م ب- ٢٣ / يوليو / ١٩٧١ م ج- ٢٣ / يوليو / ١٩٧٢ م د- ٢٣ / يوليو / ١٩٧٣ م

٣٦- مثال على شواهد النهضة العمانية الحديثة في عهد السلطان قابوس:

أ- البحرية السلطانية وشرطة عمان السلطانية
ب- الطيران العماني وشرطة عمان السلطانية
ج- قوات السلطان المسلحة وشرطة عمان السلطانية
د- الحرس السلطاني العماني وشرطة عمان السلطانية

٣٧- الترتيب الصحيح لمراحل تعليم السلطان هيثم بن طارق من الأحدث إلى الأقدم:

ب	
١	المدرسة السعيدية بمسقط
٢	جامعة أكسفورد برنامج الخدمات الخارجية
٣	كلية بيمبروك

أ	
١	كلية بيمبروك
٢	جامعة أكسفورد برنامج الخدمات الخارجية
٣	المدرسة السعيدية بمسقط

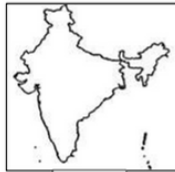
د	
١	جامعة أكسفورد برنامج الخدمات الخارجية
٢	كلية بيمبروك
٣	المدرسة السعيدية بمسقط

ج	
١	كلية بيمبروك
٢	المدرسة السعيدية بمسقط
٣	جامعة أكسفورد برنامج الخدمات الخارجية

٣٨- الخريطة الصحيحة للدولة العربية التي زارها السلطان سعيد بن تيمور:



د



ج



ب



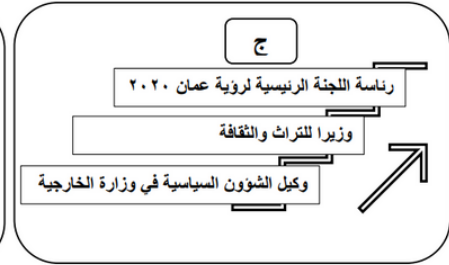
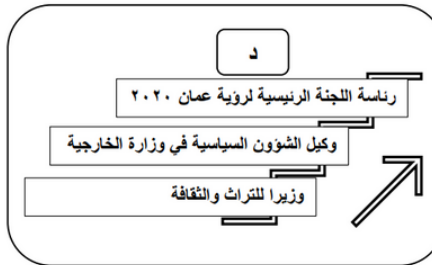
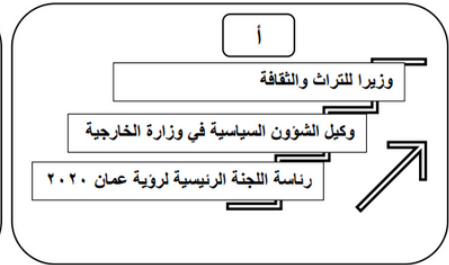
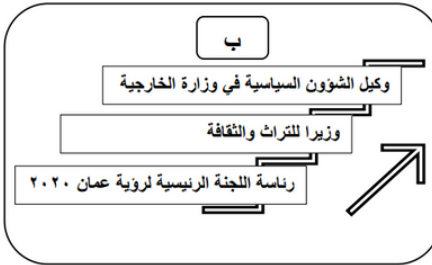
أ

٣٩- المدرسة التي تلقى فيها السلطان هيثم بن طارق مراحل تعليمه الأولى:

أ- المدرسة السعيدية بمطرح ب- المدرسة السعيدية بمسقط ج- المدرسة السعيدية بصلالة د- مدرسة الوكيل

هذا وطني بنك الأسئلة

٤٠- الترتيب الصحيح للمناصب التي تولاهها السلطان هيثم بن طارق حفظه الله قبل تولية الحكم من الأقدم إلى الأحدث:



٤١- التاريخ الصحيح الذي ولد فيه السلطان هيثم بن طارق حفظه الله:

د- ١١/أكتوبر/١٩٥٤م

ج- ١٠/أكتوبر/١٩٥٤م

ب- ٩/أكتوبر/١٩٥٤م

أ- ٨/أكتوبر/١٩٥٤م

٤٢- المكان الذي ألقى فيه السلطان هيثم بن طارق حفظه الله خطابه الأول لتقلده الحكم في البلاد:

د- مجلس العاصمة

ج- مجلس عمان

ب- مجلس الدولة

أ- مجلس الشورى

٤٣- من مظاهر الاستقرار السياسي الداخلي بعد وفاة السلطان قابوس طيب الله ثراه:

د- مشاركة الشعب في واجب العزاء

ج- الوحدة الوطنية

ب- الانتقال السلس للحكم

أ- التكتاف والتعاضد

٤٤- الخريطة التي تشير للدولة التي أكمل فيها السلطان هيثم بن طارق حفظه الله تعليمه العالي:



د



ج



ب



ا

الملاحظات



مهامون
منصة مهامون التعليمية



@2XNZI

إعداد : الأنس الفليتيّة

zadelm.com

هذا وطني بنك الأسئلة

٤٦- المدة الزمنية لفتح رسالة السلطان قابوس طيب الله ثراه والعمل بها حسب النظام الأساسي في حالة عدم الاتفاق على سلطان البلاد:

أ- ٣ أيام

ب- ٤ أيام

ج- ٥ أيام

د- ٦ أيام

ب- باستخدام خريطة عمان أمامك أجب على المفردات (٤٨) (٤٩) (٥٠).

٤٨- الرقم الذي يشير للمحافظة العمانية التي ازدهر أحد موانئها تجاريا في أواخر القرن الثامن عشر الميلادي في عصر البوسعيد على الخريطة أمامك:

أ- (١)

ب- (٢)

ج- (٣)

د- (٤)

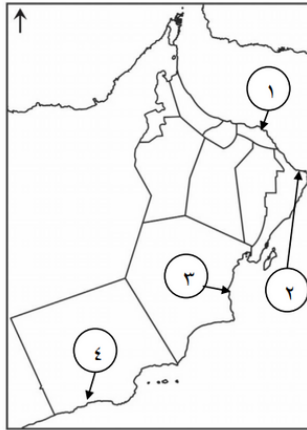
٤٩- يبلغ حجم تجارة الميناء المشار إليه بالرقم (١) في أواخر القرن الثامن عشر الميلادي من تجارة الخليج العربي حوالي:

أ- $\frac{4}{8}$

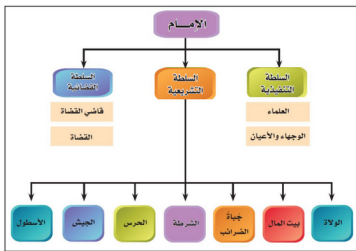
ب- $\frac{5}{8}$

ج- $\frac{6}{8}$

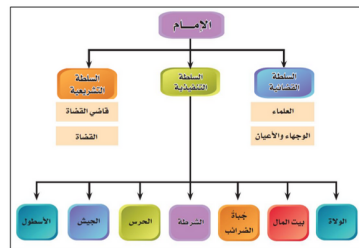
د- $\frac{7}{8}$



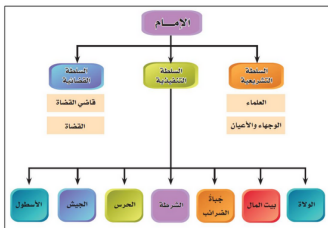
٥١- الشكل الصحيح للتنظيم الإداري في عصر الإمام أحمد بن سعيد:



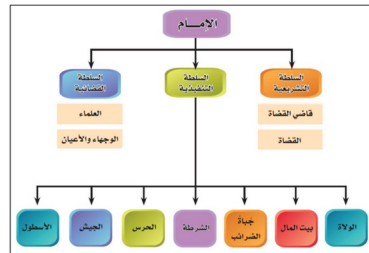
ب



ج



د



ج



ملهمون
منصة ملهمون التعليمية



@2XNZI

إعداد : الأنس الفليتيّة

zadelm.com

٥٥- الولاية العمانية التي كانت أحد مراكز صناعة السفن في عهد الإمام أحمد بن سعيد:

- أ- حصار ب- مطرح ج- خصب د- صلالة

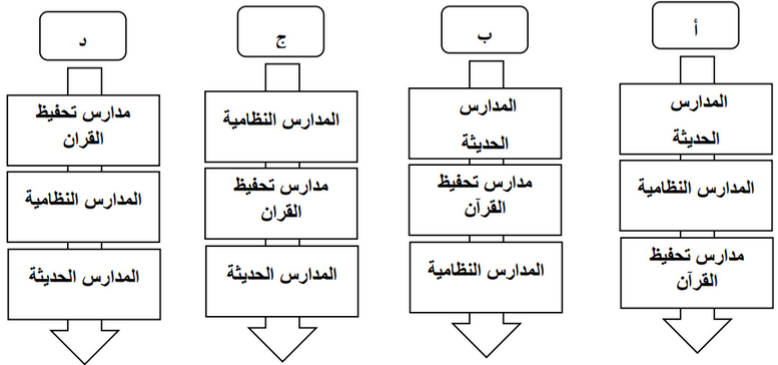
٥٦- المخطط الصحيح للقصور التي شيدها السلطان برغش بن سعيد في زنجبار:



٥٧- عدد الساعات التي وضعها السلطان برغش بن سعيد في برج الميناء بزنجبار:

- أ- ٣ ساعات ب- ٤ ساعات ج- ٥ ساعات د- ٦ ساعات

٥٨- الترتيب الصحيح لتطور التعليم في عصر حكام البوسعيد من الأحدث إلى الأقدم:



٥٩- مدرسة كانت تستخدم لتحفيظ القرآن الكريم في عهد الإمام أحمد بن سعيد:

- أ- السلطانية الأولى ب- السعيدية ج- بيت القرن د- بيت العجائب

٦٠- المدرسة النظامية في عهد السلطان تيمور بن فيصل:

- أ- السلطانية الأولى ب- السعيدية ج- بيت القرن د- بيت العجائب

٦١- سياسي ومترجم نال لقب المندوب الفرنسي عام ١٨٣٨م في عهد السلطان سعيد بن سلطان:

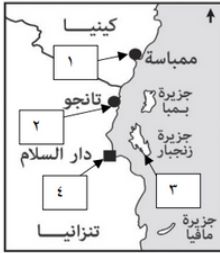
- أ- عزان بن قيس البوسعيد ب- حبيب بن سالم أمبوسعيد ج- خلفان بن محمد البوسعيد د- سعيد بن خلفان البوسعيد



هذا وطني بنك الأسئلة

٨٥-الحاكم العماني الذي عقد أقدم معاهدة سياسية بين الدول العربية والولايات المتحدة الأمريكية :

- أ- أحمد بن سعيد ب- سعيد بن تيمور ج- سعيد بن سلطان د- فيصل بن تركي



٨٦-الرقم الصحيح على الخريطة أمامك للمدينة التي كان على بن ناصر الهنائي واليا عليها

في عهد السيد سعيد بن سلطان :

- أ- (١) ب- (٢)
ج- (٣) د- (٤)

٨٧-قائل العبارة الآتية " أريد أن أنظر الى خريطة العالم ولا أجد بلدا لا تربطه علاقة صداقة بعمان " :

- أ- هيثم بن طارق ب- سعيد بن سلطان ج- أحمد بن سعيد د- قابوس بن سعيد

٨٨- السياسة الخارجية التي اتبعها السلطان قابوس طيب الله ثراه :

- أ- الصراع والحروب ب- السلم والحوار ج- التدخل في شؤون الآخرين د- زرع الفتن والفرقة

٩١- تتكون السلطة التشريعية في عهد الإمام أحمد بن سعيد من :

- أ- القاضي ب- العلماء ج- الوالي د- الشرطة

٩٢- تتكون السلطة التنفيذية في عهد الإمام أحمد بن سعيد من :

- أ- الوجهاء والأعيان ب- العلماء ج- القاضي د- الأسطول

٩٣- اسم الحاكم العماني الواضح في الصورة أمامك :



- أ-السلطان تيمور بن سعيد ب-السلطان هيثم بن طارق

- ب-السلطان سعيد بن تيمور د-السلطان قابوس بن سعيد

٩٦- السفينة العمانية التي أرسلها السيد سعيد بن سلطان إلى لندن محملة بالهدايا للكتتها :

- أ- فلك السلامة ب- الرحماني ج- شباب عمان د-سلطنة

١١٠-السلطان الذي طبع ديوان الشاعر سعيد بن مسلم المعروف بأبي الصوفي على نفقته الخاصة :

- أ-فيصل بن تركي ب- تيمور بن فيصل ج- سعيد بن تيمور د- قابوس بن سعيد



ملهمون
منصة ملهمون التعليمية



@ 2 X N Z I

إعداد : الأنس الفليتيّة

zadelm.com

س/ صف الوضع السياسي للدولة النباهنة ؟

س / وضع . الى كم امتد عصر دولة النباهنة ؟ والى كم عصر تم تقسيمه ؟

س/ عدد أبرز ملوك النباهنة في العصر الاول والثاني ؟

أ-

ب-

س/ قارن بين الفترة الزمنية للعصر الاول والعصر الثاني للدولة النباهنة ؟

أ-

ب-

س/ ما المصادر التي يمكن أن نستقي منها معلومات حول عصر النباهنة ؟

س/ من الشاعر الذي قام بمدح ملوك النباهنة ؟

س/ الى ما يعود أصل النباهنة ؟

س/ ما الاسباب التي أدت الى غياب الوحدة الوطنية في دولة النباهنة ؟

س/ عدد أهم الصراعات و المعارك التي حدثت في عصر النباهنة وأهم النتائج التي ترتبت عليها ؟

س/ أذكر بعض المعارك التي دارت بين ملوك النباهنة و مناوئهم (خصومهم) الاثمة ؟

س/ علل . تعتبر المعركة التي دارت بين ملوك النباهنة و الامام محمد بن اسماعيل من اهم المعارك ؟

س/ على ماذا يدل تعدد مسجات حكام عمان خلال الفترات الزمنية المختلفة ؟

س/ ما ابرز المسميات التي أطلقت على عمان خلال الفترات الزمنية المختلفة ؟ وما سبب تغيرها ؟

س/ علل . يغد ديوان الملك النبهاني سليمان بن سليمان مصدرا من مصادر تاريخ عصر النباهنة ؟



س/ فسر . تنوع العلاقات الخارجية لعمان ؟

س/ من خلال احتكاك ابن بطوطة بأهل عمان عدد أهم المشاهد و الملاحظات ؟

س/ ما دلالات العبارات التالية :-

أ- جلب الطعام في صحن المسجد .

ب- مقابلة السلطان للناس دون تمييز

س/ اختر الاجابة الصحيحة من بين البدائل المعطاة :-

١- حسب وصف ابن بطوطة يقوم العانيون بمصافحة بعضهم البعض بعد صلاتي :

أ- الظهر و العصر ب- العصر و الفجر ج- المغرب و العصر د- المغرب و العشاء

٢- يستقبل أهل ظفار السفن التجارية القادمة من ؟

أ- الصين ب- زنجبار ج- الهند د- اليمن

٣- كم تبلغ مدة الضيافة للتجار في ظفار :

أ- يوم واحد ب- يومان ج- ٣ ايام د- ٤ ايام

٤- ما اهم ما يقدم للتجار عند قدومهم الى ظفار

أ- الكسوة و الضيافة ب- الهدايا ج- الأموال د- الضيافة

س/ ما اهم القيم و العادات التي تميز بها المجتمع العماني؟

س/ ما أهم المدن و المراكز الحضارية للدولة النبهانية و أهم المباني التي قاموا ببنائها ؟

س/ على ماذا يدل اهتمام ملوك النباهنة ببناء القلاع و الحصون ؟

الملاحظات



ملهمون
منصة ملهمون التعليمية



@2XNZI

إعداد : الأونس الفليتيّة

zadelm.com

هَذَا وَطَنِي بَنِيكَ الْأَسْنَاءُ تَتَه

س/ استنتج . أهمية القضاء في استقرار المجتمع ؟

س/ دلل على اهتمام ملوك النباهنة بالعلم و الادب ؟

س/ ما اسم الكتاب الذي ألفه أحمد بن ماجد ؟

س / ما المجال الذي برع فيه :-

١- أحمد بن ماجد

٢- الكيذاوي

س/ ما اسم الديوان الشعري الذي ألفه موسى بن حسين ؟

س/ اذكر نماذج من النتاج الثقافي في عصر النباهنة ؟



س/ حدد على الخريطة أول منطقة عانية وصل اليها البرتغاليين ؟

س/ العام الميلادي الذي وصل اليه البرتغاليون الى عمان ؟

وفي اي قرن ميلادي ؟

س/ ما أهم الممارسات التي قام بها البرتغاليون عند وصولهم الى عمان ؟

س/ ارسم على الخريطة خط سير البرتغاليين من بلادهم الى عمان ؟

س/ ادرس الخريطة التي أمامك ثم صنف أهم الحصون التي بناها البرتغاليين؟

اصلي
حزير
العادي

جنوب اسيا	الساحل الغربي للهند	الخليج العربي	شرقي أفريقيا

س/ يعتبر من أهم الحصون البرتغالية في مدخل البحر الاحمر ؟

س/ ما أول الحصون التي بناها البرتغاليون في شرقي افريقيا ؟



ملهمون
منصة ملهمون التعليمية



@2XNZI

إعداد : الأنس الفليتيّة

zadelm.com

هذا وطني بنك الأسئلة

س/ ما الأسباب التي أدت الى هزيمة العمانيون و انتصار البرتغاليون ؟

س / ما الأسباب التي أدت الى ضعف التجارة العمانية ؟

س/ ما النتيجة المترتبة على السيطرة على الموانئ العمانية و التحكم في السلع الصادرة والواردة ؟

س/ من اهم الشخصيات العسكرية البرتغالية الذي عُيّن نائباً لملك البرتغال في المشرق ؟

س / علل. تعيين البوكيرك نائباً لملك البرتغال في المشرق ؟

ثورة عام ١٥٢١م

س/ أكمل الجدول

المدن الساحلية العمانية	الموقع الجغرافي
البرتغاليين	العدو
اخماد الثورة	النتيجة

س/ استمر سيطرة البرتغاليين على المدن و السواحل العمانية ؟

س/ متى انتهت دولة النباهنة ؟

*اقرأ النص في الكتاب المدرسي صفحة 12 ثم أجب عن الاسئلة التالية :

1- ما سبب تزايد أطماع الغزاة على عُمان في عصر النباهنة ؟

.....

.....

.....

2- (أكمل) امتد حكم النباهنة في عُمان حواليقرون .



ملهمون
منصة ملهمون التعليمية



@2XNZI

إعداد : الأنس الفليتيّة

zadelm.com

صنف في الجدول التالي عصري النباهنة الاول والثاني في عُمان ، من حيث فترة الحكم واشهر الملوك :

اسم العصر	فترة الحكم	اشهر الملوك
العصر النبهاني الاول
العصر النبهاني الثاني

3- ((شهدت عُمان في عصر النباهنة تجزئة واضحة غابت على اثرها الوحدة الوطنية)) . وضح ذلك ؟

.....
.....
.....

- 4- قتل (حسام بن سليمان بن مظفر النبهاني) على يد
- 5- الامام الذي تعتبر بداية حكمة انتهاء للعصر النبهاني الاول
- 6- امتدت فترة حكم الامام ابي الحسن بن خميس الخروصي ما بين و.....
- 7- امتدت فترة حكم الامام محمد بن اسماعيل الحاضري ما بين و
- 8- ما دلالة اختلاف مسميات حكام عُمان بين مسمى (سلطان) ومسمى (ملك)؟
-
- 9- وضح اثر تماسك نسيج المجتمع الداخلي ؟
-
-

أقرأ نص الكتاب المدرسي في صفحتي (15، 16) جيداً ، ثم اجب عن الاسئلة التالية :

1- ((تنوعت علاقات عُمان الخارجية في العصر النبهاني بين علاقة توطيد وعلاقة اضطراب)) . وضح ذلك ؟

.....
.....
.....
.....
.....

2- ماذا تعرف عن :

أ- مملكة هرمز :

.....
.....

ب- جزيرة (باتي) :

.....
.....

ج- محمد بن أحمد النبهاني :

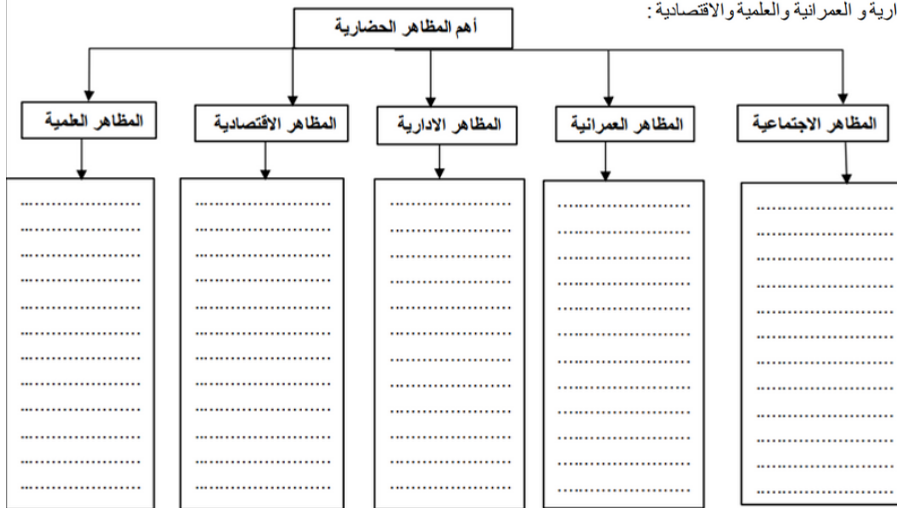
.....
.....

10- الملك اليمني الذي تبادل الهدايا مع الملك النبهاني كهلان بن عمر هو

11- من أمثلة ملوك الهرامزة اللذين غزو عُمان في العصر النبهاني الملك

12- الملك العماني الذي اسسس (مملكة هرمز) ، وصك فيها العملة باسمه

اقرأ نص الكتاب المدرسي من صفحة (18 – 22) جيداً ، ثم املأ الشكل التالي
موضحاً أهم المظاهر الحضارية في عصر النباهنة في مجالات الاجتماعية و
الإدارية والعمرانية والعلمية والاقتصادية :



- 14- من أشهر ملوك النباهنة الذين قربوا العلماء وكرموا الشعراء الملك
15- الملك النبهاني الذي كان عالما واديبا
16- اشتهر الملك النبهاني بمهارة الشعر في عصره .
17- الملك النبهاني الذي جلب (المانجو) من الهند هو
18- ما أهمية ودلالة المخطوطات العُمانيّة ؟

.....
.....

- 19- ما سبب انتصار البرتغاليون وسيطرتهم على السواحل العُمانيّة في عصر النباهنة ؟

.....
.....

- 20- (كان للانقسامات الداخلية في عُمان وضعف العدة والعتاد أثرها سياسيا واقتصاديا) .
وضح ذلك ؟

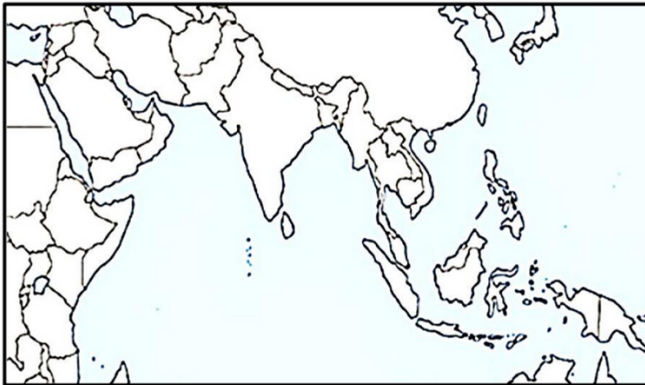
.....
.....

- 21- رسّخ الوجود البرتغالي في أفريقيا وآسيا ، وعين نائباً للملك في المشرق هو

- 22- من أبرز ثورات العُمانيين على الاحتلال البرتغالي بتاريخ في عام ، واستمر
الغزو البرتغالي لعُمان حتى قيام دلة اليعاربة في عام

- 1- وقّع اسماء الموانئ التالية في مكانها الصحيح (مسقط - صحار - دبا -
البصرة - النيل - مرياط - عدن - كالكوت - ممباسا - كلوة - مالقا -
كانتون)

- 2- تتبع بالرسم مسارات خطوط التجارة العالمية في عهد النباهنة .



الملاحظات



مهامون
منصة مهامون التعليمية



@2XNZI

إعداد : الأنس الفليتيّة

zadelm.com

هذا وطني بنك الأسئلة

- 1- ولد الامام أحمد بن سعيد في ولاية.....وتولى الحكم في عمان في عام.....
، بعد ان كان واليا على مدينة..... ، واتخذ من ولاية..... عاصمة له ،
وتوفي في مدينة..... في عام..... .

اقرأ نص الكتاب في صفحة (37 ، 38) ، املأ الجدول التالي والذي يوضح أئمة وسلاطين دولة البوسعيد و منجزاتهم :

الامام / السلطان	أهم المنجزات في عهده
أحمد بن سعيد
سلطان بن احمد
سعيد بن سلطان
عزان بن قيس
فيصل بن تركي
سعيد بن تيمور
قابوس بن سعيد

2- تولى السلطان سعيد بن تيمور الحكم في عام.....

3- أول حاكم عربي يزور الولايات المتحدة الامريكية.....

4- تمكن الامام احمد بن سعيد من تحرير البصرة من سيطرة الفرس عام.....

5- قامت النهضة العمانية الحديثة بتاريخ..... من عام..... ، بقيادة السلطان
طيب الله ثراه ، وتوفي بتاريخ..... ، عام.....

6- تولى السلطان هيثم بن طارق حفظة الله مقاليد الحكم في عُمان بتاريخ..... عام.....



ملهمون
منصة ملهمون التعليمية



@2XNZI

إعداد : الأنس الفليتيّة

zadelm.com

هذا وطني بنك الأسئلة

7- دلل على ((مظاهر الاستقرار السياسي الداخلي في عُمان)) ؟

.....

.....

اكتب باختصار ما تعرفه عن السلطان هيثم بن طارق بن تيمور ؟



.....

.....

.....

.....

.....

8- ازدهر ميناء مسقط تجاريا في اواخر القرن ، ويبلغ مقدار التجارة المارة عبر ميناء مسقط خلال تلك الفترة التجارة في منطقة الخليج العربي .

9- بلغ عدد السفن التي زارت ميناء زنجبار في عهد السيد سعيد بن سلطان حوالي سفينة ، وكان ذلك في الفترة ما بين عامي و ميلادي .

10- ((كان هناك تأثير حضاري للتجار العمانيين في المناطق التي وصلوا إليها)) . وضح ذلك ؟

.....

.....

11- ادخل السيد سعيد بن سلطان محصول الى عُمان في عام

12- من اهم موانئ احواض صناعة السفن في عُمان في عهد السيد سعيد بن سلطان

.....و.....و.....

13- ((العمارة مرآة لحضارة البلد وانعكاس هويته)) . فسر ذلك ؟

.....

.....

14- بُنيت مدرسة (بيت القرآن) في الرستاق في عهد السلطان ، كما بُنيت المدرسة السلطانية في عهد السلطان

15- لُقّب سعيد بن خلفان البوسعيدي بالمندوب الفرنسي في مسقط عام ، واعترف به السيد سعيد بن سلطان قنصلاً فرنسياً في مسقط عام



ملهمون
منصة ملهمون التعليمية



@2XNZI

إعداد : الأنس الفليتيّة

zadelm.com

16- طبع ديوان ابي الصوفي في اوساكا باليابان على نفقة السلطان سعيد بن تيمور في عام

17- عُيِّن سماعة الشيخ أحمد بن حمد الخليلي مفتيا عاما للسلطنة في عام

((استمرت عمان في عصر البوسعيد بإقامة علاقات دبلوماسية على المستويين الاقليمي والعالمي)) .

في ضوء هذه العبارة ، وضح دور كلا من السيد سعيد بن سلطان ، السيد سلطان بن أحمد البوسعيد والسلطان قابوس بن سعيد – طيب الله ثراه – في بناء علاقات دبلوماسية على المستويين الاقليمي والعالمي .

.....

.....

.....

.....

.....

.....

18- عقد السيد سعيد بن سلطان مع الولايات المتحدة الامريكية في عام ،
وارسل واليه على ممباسا الى لندن على متن السفينة ، في عام
حاملًا معه هدايا السلطان الى الملكة .

صنف اسماء الكتب والمؤلفات التالية حسب اسماء مؤلفيها :

(تهذيب الاثر في تلخيص جامع الشيخ محمد بن جعفر – العلم المبين والحق اليقين – ديوان ابي الصوفي – برهان الحق – تنوير العقول في علم قواعد الاصول)

المؤلف	الكتاب / الديوان
سماعة الشيخ العلامة أحمد بن حمد الخليلي
ناصر بن جاعد الخروصي
الشيخ مهنا بن خلفان البوسعيد
الشاعر سعيد بن مسلم



هذا وطني بنك الأسئلة

1- (كان لتطور مجالات الحياة وتعدد متطلبات الانسان اثره على البيئة) . وضح ذلك ؟

.....
.....

1- تنقسم البيئة الى نوعين هما و

2- ما المقصود بكلا من :

أ- البيئة :

.....
ب- البيئة الطبيعية :

.....
ج- البيئة المشيدة :

.....

3- ((تفاعل البيئة بشقيها الطبيعي والمشيّد له تأثيره السلبي والايجابي)) . وضح ذلك؟

.....
.....

4- ما المقصود بـ ((التنوع الاحيائي)) ؟

.....
5- ((يعتبر التنوع الاحيائي ثروة عالمية)) . علل ذلك ؟

.....

7- عقد المؤتمر البيئي (الحياة تحت الماء ، مسقط) في عام ، ومؤتمر عمان للبيئة (جلف إكو) في عام ، وعقد مؤتمر تغير المناخ بالمانيا في عام ، ومؤتمر الاطراف المعنية بادرارة المخلفات الخطرة في عام

8- أطلقت دول المحيط الهندي على برنامجها في حماية السلاحف اسم ، وكان في عام

9- اعلنت جائزة السلطان قابوس للبيئة في عام ، وتمنح كل ، على شكل

10- ما اهداف جائزة السلطان قابوس للبيئة ؟

.....
.....

11- حصل صندوق اشوكاترست للابحاث على جائزة اليونسكو – السلطان قابوس لصون البيئة في عام



1- ما العوامل التي ساعدت على تنوع البيئات في سلطنة عمان ؟

.....

.....

وضح كيف ساعدت العوامل التالية على تنوع البيئات في سلطنة عمان :

أ- تعدد مظاهر السطح:

.....

.....

.....

.....

ب- الموقع الجغرافي والفلكي للسلطنة :

.....

.....

.....

2- ((اعتمد العمانيون على امكانيات البيئة الطبيعية في بناء بيئتهم المشيّدة)) . في ضوء هذه العبارة ، ما النتائج المترتبة على ذلك ؟ مع ذكر الامثلة .

.....

.....

.....

.....

3- ((للتنوع الاحيائي في عُمان ، أهمية اقتصادية كبيرة)) . علل ذلك ؟

.....

.....

.....

4- لماذا يعد التنوع الاحيائي في عُمان من مقومات السياحة البيئية ؟

.....

.....

.....

الملاحظات



مهامون
منصة مهامون التعليمية



@2XNZI

إعداد : الأونس الفليتيّة

zadelm.com

اقرأ النص في الكتاب المدرسي صفحة (63 – 65) ، ثم تتبع جهود السلطنة في حماية البيئة واستدامتها من خلال :

1- جهود السلطان قابوس بن سعيد – طيب الله ثراه

2- التشريعات والقوانين البيئية

5- بدأت الخطط الخمسية التنموية في السلطنة في عام

6- صدر قانون ((حماية البيئة ومكافحة التلوث)) في عام ، وجاء بموجب المرسوم السلطاني رقم ، وصدر قانون حماية مياه الشرب من التلوث بموجب المرسوم السلطاني رقم

7- ماذا تعرف عن (المنطقة البحرية الخاصة) في عُمان ؟

8- من امثلة محطات قياس جودة الهواء رصد مستويات التلوث في السلطنة و

9- أول دولة عربية تخصص وزارة خاصة للبيئة هي ، في عام

10 – ((التكاتف الوطني أساس بيئة عُمانية مستدامة)) ، وضح ذلك من خلال جهود المؤسسات لحماية البيئة العمانية ؟



السؤال الأول : اختر الإجابة الصحيحة من بين البدائل المعطاة :

- ١- الوسط أو المجال المكاني الذي تعيش فيه الكائنات الحية تتأثر به وتؤثر فيه /
أ- البيئة الطبيعية ب- البيئة ج- البيئة المشيدة د- التنوع الأحيائي
- ٢- تضم جميع الكائنات الحية التي تعيش على الأرض وما يحيط بها من ماء وهواء وغيرها من موارد طبيعية /

- أ- البيئة المشيدة ب- البيئة ج- التنوع الأحيائي د- البيئة الطبيعية
- ٣- تتضمن كل ما أنشأه الإنسان نتيجة تفاعله واستثماره لموارد بيئته الطبيعية /

- أ- التنوع الإحيائي ب- البيئة ج- البيئة المشيدة د- البيئة الطبيعية
- ٤- تعدد أنواع الكائنات الحية وكثرتها وتباينها سواء كانت هذه الأنواع في النظم البيئية البرية أم المائية أم الجوية /

- أ- التنوع الأحيائي ب- البيئة الطبيعية ج- البيئة د- البيئة المشيدة
- ٥- المجال الذي تشير إليه الصورة ويعتبر أحد مجالات الناجمة عن التنوع الأحيائي /



- أ- المجال الطبي ب- المجال الزراعي
- ج- المجال البيئي د- المجال الصناعي

٦- الصورة التي تشير إلى أهمية التنوع الأحيائي في المجال الصناعي /



- أ- ب- ج- د-

٧- العام الميلادي الذي عقد به مؤتمر الحياة تحت الماء في مسقط /

- أ- ٢٠١٦ م ب- ٢٠١٧ م ج- ٢٠١٨ م د- ٢٠١٩ م

٨- المدينة التي عقد بها مؤتمر الأطراف المعنية بإدارة المخلفات الخطرة والمواد الكيميائية /

- أ- جنيف ب- فيينا ج- لندن د- برلين

٩- الرقم الذي يشير إلى الدولة التي عقد بها مؤتمر تغير المناخ عام ٢٠١٧ م /



- أ- (١) ب- (٢)

- ج- (٣) د- (٤)



هَذَا وَطَنِي بَنِيكَ الْأَسْئَلَةَ

١٠- المؤتمر الإقليمي والعالمي الذي شاركت فيه السلطنة عام ٢٠١٥م /

أ- الحياة تحت الماء ب- تغير المناخ

ج- الأطراف المعنية بإدارة المخلفات الخطرة والمواد الكيميائية د- برنامج الأمم المتحدة للبيئة

١١- برنامج الدول المطلة على المحيط الهندي الذي أطلقت عليه اسم سلطنة عمان /

أ- برنامج حماية اسماك القرش ب- برنامج حماية السلاحف البحرية

ج- برنامج حماية الدلافين د- برنامج حماية الحيتان

١٢- المنظمة العالمية التي ترعى جائزة السلطان قابوس لحماية البيئة /

أ- اليونيسكو ب- الإيسيسكو ج- الألكسو د- برنامج الأمم المتحدة للبيئة

١٣- العام الميلادي الذي أقر فيه جلالة السلطان قابوس بن سعيد - طيب الله ثراه - جائزة لصون البيئة /

أ- ١٩٨٧م ب- ١٩٨٨م ج- ١٩٨٩م د- ١٩٩٠م

١٤- المدة الزمنية التي تمنح فيها جائزة السلطان قابوس لصون البيئة كل /

أ- عام ب- عامين ج- ثلاثة أعوام د- أربعة أعوام

١٥- المرة الأولى التي قدمت فيها جائزة السلطان قابوس لصون البيئة /

أ- ١٩٨٩م ب- ١٩٩١م ج- ١٩٩٣م د- ١٩٩٥م

١٦- سلمت جائزة السلطان قابوس لصون البيئة عام ٢٠٠٥م للمرة /

أ- الخامسة ب- السادسة ج- السابعة د- الثامنة

١٧- الدولة التي حازت على جائزة السلطان قابوس لصون البيئة عام ٢٠١٩م /

أ- المكسيك ب- الهند ج- استراليا د- جنوب إفريقيا

١٨- العام الميلادي الذي حصد فيه صندوق أشوكا ترست للأبحاث في مجال الإيكولوجيا والبيئة جائزة

السلطان قابوس لصون البيئة /

أ- ٢٠١٣م ب- ٢٠١٥م ج- ٢٠١٧م د- ٢٠١٩م

١٩- صادقت السلطنة على اتفاقية فيينا الداعية لحماية /

أ- طبقة الأوزون ب- التنوع الأحيائي ج- السلاحف البحرية د- النباتات الصحراوية

٢٠- المرة التي منحت فيها الجائزة لصندوق أشوكا ترست للأبحاث في مجال الإيكولوجيا والبيئة /

أ- الرابعة عشر ب- الخامسة عشر ج- السادسة عشر د- السابعة عشر

٢١- الرقم الذي يشير إلى الدولة التي نالت جائزة السلطان قابوس للعام ٢٠١٩م /

أ- (١) ب- (٢)

ج- (٣) د- (٤)



ملهمون
منصة ملهمون التعليمية



@2XNZI

إعداد : الأنس الفليتيّة

zadelm.com

هذا وطني بنك الأسئلة

٢٢- الجائزة التي تقدم للناشرين على جائزة السلطان قابوس لصون البيئة /

أ- شهادة تقديرية ب- أوسمة ج- منحة مالية د- شهادة تقديرية ومنحة مالية

٢٣- العام الذي أطلقت فيه الدول المطلة على المحيط الهندي اسم سلطنة عمان على برنامجها لحماية السلاحف البحرية/

أ- ٢٠٠٤ م ب- ٢٠٠٦ م ج- ٢٠٠٨ م د- ٢٠١٠ م

٢٤- المؤتمر البيئي الذي عقد في عمان عام ٢٠١٣ م /

أ- الحياة تحت الماء ب- عمان للبيئة (جلف إيكو)

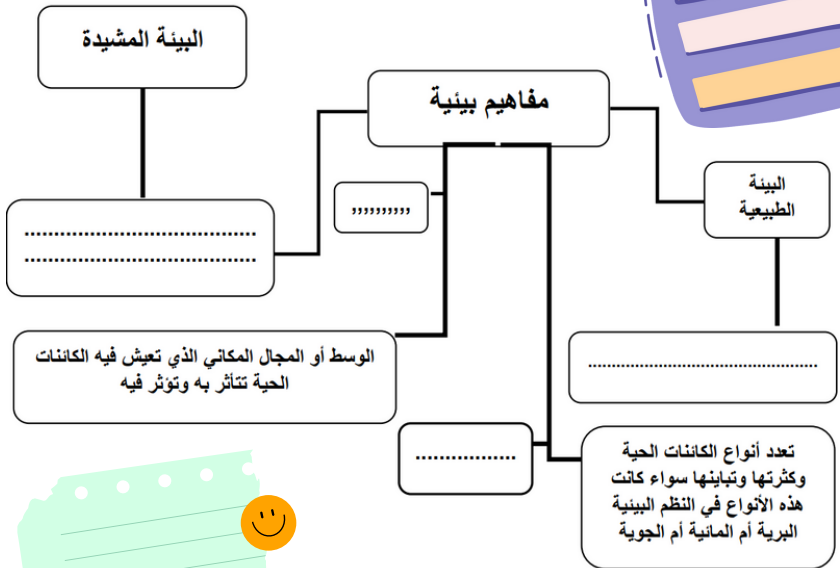
ب- ج- تغير المناخ د- إدارة المخلفات الخطرة والمواد الكيميائية



٢٥- المفهوم البيئي الذي تعبر عنه الصورة /

أ- البيئة الطبيعية ب- البيئة المشيدة

ج- البيئة د- التنوع الأحيائي



٢- رتب الأحداث التالية من الأحدث إلى الأقدم /

١- عقد المؤتمر البيئي الحياة تحت الماء في مسقط .

٢- عقد مؤتمر عمان للبيئة جلف إكو .

٣- إعلان جائزة السلطان قابوس لصون البيئة .

٤- عقد مؤتمر الأطراف المعنية بإدارة المخلفات الخطرة والمواد الكيميائية .

٥- إطلاق اسم سلطنة عمان على برنامج حماية السلاحف البحرية لدول المطلة على المحيط الهندي.



ملهمون
منصة ملهمون التعليمية



@2XNZI

إعداد : الأنس الفليتيه

zadelm.com

٣- صنف جهود سلطنة عمان لحماية البيئة العالمية حسب نوعية البرامج /

الحياة تحت الماء - تغير المناخ - التنوع الأحيائي - برنامج الأمم المتحدة للبيئة - الأطراف المعنية بإدارة المخلفات الخطرة والمواد الكيميائية - الإقليمية لحماية البيئة البحرية - حماية طبقة الأوزون - عمان للبيئة (جلف إكو)

م	برامج حماية البيئة	اسهامات وجهود السلطنة لحماية البيئة
١	مؤتمرات دولية داخل عمان	
٢	مؤتمرات إقليمية وعالمية	
٣	منظمات وبرامج دولية	
٤	اتفاقيات إقليمية ودولية	



٤- ادرس الصورة التالية ثم أجب عما يليها من أسئلة :

أ- اسم الجائزة التي أعلن عنها جلالتة أثناء زيارته للمنظمة

ب- المنظمة الراعية لجائزة السلطان قابوس وتشير إليها الصورة

ج- العام الميلادي الذي أعلن فيه عن الجائزة.....

د- نوع الجائزة التي تمنح للفنانينو.....

هـ- الفترة الزمنية لمنح الجائزة.....

و- العام الذي منحت فيه هذه الجائزة للمرة الثامنة عام.....

٥- بم تفسر الاستنزاف الذي تعرضت له البيئة في مختلف دول العالم ؟

.....

الملاحظات



مهامون
منصة مهامون التعليمية



@2XNZI

إعداد : الأونس الفليتيّة

zadelm.com

٦- ما الاجراءت التي اتخذتها دول العالم من أجل حماية البيئة ؟

١- ٢-.....

٧- قارن بين البيئة الطبيعية والبيئة المشيدة من حيث المفهوم ؟

البيئة الطبيعية

.....

البيئة المشيدة

.....

٨- (بشكل التنوع الاحيائي أهمية كبيرة في مختلف مجالات حياتنا) دلل على ذلك ؟

.....

.....

٩-برهن على إسهامات السلطنة في حماية البيئة العالمية والعمل على استدامتها ؟

.....

.....

١٠- (تعد السلطنة من أوائل الدول التي أولت حماية البيئة اهتمامها)

أ- استدل على صدق العبارة السابقة ؟

ب - ما الجهات المستحقة لنيل جائزة السلطان قابوس ؟ وما شروط استحقاقهم للجائزة ؟

.....

.....

.....

السؤال الأول: ظلل رمز الإجابة الصحيحة من بين البدائل المعطاة:

١/ كان دخولهم لغمان إيذاًنا لزوال حكم اليعاربة:

○ الفرنسيون ○ البريطانيون ○ الفرس ○ البرتغاليون

٢/ كتاب شمس الأفاق الشيخ خلفان بن جمعة السليمانى في مجال:

○ الطب ○ الفلك ○ الشريعة ○ الأدب

٣/ الإمام اليعربى الذي لى نداء استغاثة ممباسا من البرتغاليين عام ١٦٩٨:

○ ناصر بن مرشد ○ سلطان بن سيف ○ سيف بن سلطان ○ بلعرب بن سلطان

السؤال الثاني: أجب عن جميع الاسئلة التالية:

١/ بيّن أبرز ما قام به اليعاربة لتطوير النشاط الزراعي؟

٢/ عدّد الأساليب التي لجأ إليها الإمام ناصر بن مرشد لتحقيق الوحدة الوطنية؟

٣/ قارن بين العمارة الحربية والعمارة المدنية لليعاربة من خلال ذكر مثالين لكل نوع.



هَذَا وَطَنِي بَنِيكَ الْأَسْئَلَةَ

السؤال الأول : اختر الإجابة الصحيحة من بين البدائل المعطاة:-

- ١/ أول أئمة اليعاربة الذين حكموا عُمان الإمام:
 - أ/ناصر بن مرشد. ب/ سلطان بن سيف. ج/ سيف بن سلطان. د/بلعرب بن سلطان.
- ٢/ تمت مبايعة الإمام ناصر بن مرشد إماماً لعمان في عام:
 - أ/ ١٥٠٧. ب/ ١٥٧٠. ج/ ١٦٢٤. د/١٦٤٢.
- ٣/ بدأ عصر اليعاربة في القرن الهجري:
 - أ/ التاسع. ب/ العاشر. ج/ الحادي عشر. د/الثاني عشر.
- ٤/ بدأ عصر اليعاربة في القرن الميلادي:
 - أ/ الخامس عشر. ب/ السادس عشر. ج/ السابع عشر. د/الثامن عشر.
- ٥/ بدأ الإمام ناصر بن مرشد بتوحيد البلاد من مدينة:
 - أ/ نزوى. ب/ بهلاء. ج/ عبري. د/الرسناق.
- ٦/ المدينة العُمانية التي تعرف قديماً باسم (توام):
 - أ/ نزوى. ب/ اليريمي. ج/ عبري. د/مسقط.
- ٧/ ولد الإمام ناصر بن مرشد بقرية قصرى في مدينة:
 - أ/ نزوى. ب/ بهلاء. ج/ عبري. د/الرسناق.
- ٨/ يعتبر الإمام ناصر بن مرشد حفيد السلطان اليعربي:
 - أ/مالك بن أبي العرب. ب/ سلطان بن سيف. ج/ سيف بن سلطان. د/بلعرب بن سلطان.
- ٩/ العالم الذي تتلمذ الإمام ناصر بن مرشد على يديه هو :
 - أ/ الخروصي. ب/ المعولي. ج/ الشقصي. د/الأمبوسعيدي
- ١٠/ توفي الإمام ناصر بن مرشد في عام:
 - أ/ ١٦٢٤. ب/ ١٦٤٢. ج/ ١٦٤٩. د/١٦٩٤.
- ١١/ استمرت إمامة الإمام ناصر بن مرشد لعمان حوالي:
 - أ/ ربع قرن. ب/ ثلث قرن. ج/ نصف قرن. د/قرن.
- ١٢/ عقد الإمام ناصر بن مرشد اتفاقية مع البرتغاليين عام:
 - أ/ ١٦٤٢. ب/ ١٦٤٤. ج/ ١٦٤٦. د/١٦٤٨.
- ١٣/ توفي الإمام ناصر بن مرشد قبل تحرير عمان نهائياً من البرتغاليين حيث بقيت مطرح و:
 - أ/ صحار. ب/ مسقط. ج/ قلहत. د/صور.
- ١٤/ تم طرد البرتغاليين نهائياً من عمان عام :
 - أ/ ١٦٤٨. ب/ ١٦٤٩. ج/ ١٦٥٠. د/١٦٥١.
- ١٥/ الإمام العُماني الذي تمكن من طرد البرتغاليين نهائياً من عُمان هو:
 - أ/ناصر بن مرشد. ب/ سلطان بن سيف. ج/ سيف بن سلطان. د/بلعرب بن سلطان.
- ١٦/ إحدى مدن شمال عُمان وتعد حاضرة الصير:
 - أ/ صحار. ب/ دبا. ج/ خصب. د/ جلفار
- ١٧/ تم تحريرها من البرتغاليين بعد معركة حامية الوطيس بقيادة العُماني علي بن أحمد النزوي :
 - أ/ صحار. ب/ دبا. ج/ خصب. د/ جلفار
- ١٨/ الوالي الذي عينه الإمام ناصر بن مرشد على جلفار بعد تحريرها هو:
 - أ/ النزوي. ب/ الشقصي. ج/ العنبوري. د/الخروصي
- ١٩/ العاصمة العُمانية التي خرجت منها الحملات لمواجهة البرتغاليين هي :
 - أ/ نزوى. ب/ بهلاء. ج/ مسقط. د/الرسناق.
- ٢٠/ مدينة عُمانية على سواحل الخليج العربي حررها الإمام ناصر بن مرشد من البرتغاليين:
 - أ/ صحار. ب/ هرمز. ج/ دبا. د/ جلفار



هذا وطني بنك الأسئلة

السؤال الأول : اختر الإجابة الصحيحة من بين البدائل المعطاة :

١- العام الميلادي لأصدر قانون حماية البيئة ومكافحة التلوث /

أ- ١٩٧٢ م ب- ١٩٨٢ م ج- ١٩٩٢ م د- ٢٠٠٢ م

٢- القمة التي شاركت فيها السلطنة عام ١٩٩٢ م /

أ- الأرض ب- المريخ ج- الفضاء د- البيئة

٣- الرمز الذي يختصر مسمى المنظمة البحرية الدولية /

أ- (WTO) ب- (ECE) ج- (EESC) د- (IMO)

٤- يبلغ طول المنطقة التي صنفها المنظمة البحرية الدولية كم منطقة بحرية خاصة من رأس الحد وإلى الحدود العمانية الجنوبية لحمايتها من التلوث /

أ- ١٠٠ ميل ب- ٢٠٠ ميل ج- ٣٠٠ ميل د- ٤٠٠ ميل

٥- العام الميلادي الذي أنشئت فيه وزارة البيئة /

أ- ١٩٨٢ م ب- ١٩٨٤ م ج- ١٩٨٥ م د- ١٩٨٦ م

٦- تعرف اللجنة الاقتصادية والاجتماعية لغربي آسيا

أ- اليونسكو ب- الايسيسكو ج- الإسكوا د- الاليسكو

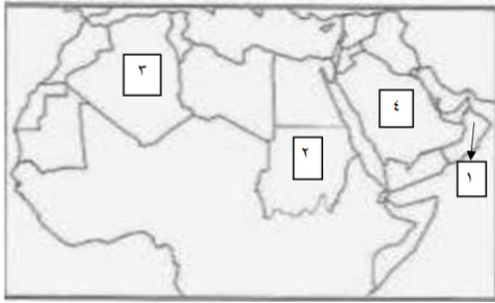
٧- ميناء أنشأ بقربه محطة لقياس جودة الهواء ورصد مستويات التلوث في محافظة مسقط

أ- قابوس ب- ريسوت ج- السيب د- الفحل

٨- الرقم الذي يشير إلى أول دولة عربية تخصص وزارة معنية بالبيئة /

أ- (١) ب- (٢)

ج- (٣) د- (٤)



٩- الاقتصاد الذي يهدف إلى تطوير مشاريع إنتاجية يعني باستدامة البيئة والاستغلال الأمثل للموارد الطبيعية /

أ- الاقتصاد البيني ب- الاقتصاد المفتوح

ج- الاقتصاد المستدام د- الاقتصاد الأخضر



ملهمون
منصة ملهمون التعليمية



@2XNZ1

إعداد : الأنس الفليتيّة

zadelm.com

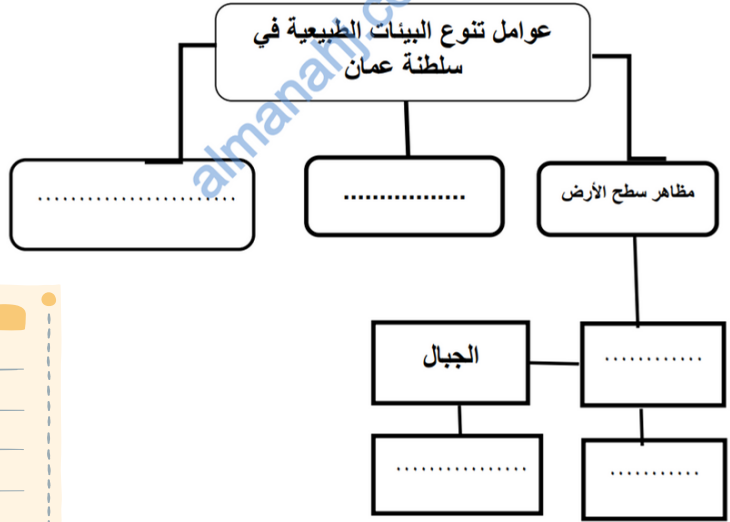
١٠- الفعاليات البيئية التي تقوم بها المؤسسات الخاصة والأهلية دعماً لجهود الحكومة /

أ- تنظيم المؤتمرات البيئية

ب- الانضمام للمنظمات البيئية العالمية

ج- حملات تنظيف الشواطئ

د- عقد الاتفاقيات مع دول العالم



☐

☐

☐

☐

☐

٣- بم تفسر الآتي /

أ- تميز سلطنة عمان بتنوع أحيائي فريد ؟

.....

ب- إنشاء مكتب مساندة للاقتصاد الأخضر في سلطنة عمان ؟

.....

٤- ما الأهمية الاقتصادية لتنوع الأحيائي في سلطنة عمان ؟

.....

٥- كيف أسهم التنوع الاحيائي في تعدد مقومات السياحة البيئية في سلطنة عمان ؟

.....

٢- كيف أثرت البيئة الطبيعية وتنوعها في عمان على إقامة البيئة المشيدة ونمط حياة السكان فيها ؟

.....



٦- برهن على الاتي /

أ-اهتمام السلطنة بتحقيق التوازن بين متطلبات التنمية الاقتصادية والاجتماعية من جهة وحماية البيئة من جهة أخرى ؟

.....

.....

ب-اهتمام السلطنة بحماية الغلاف الجوي من التلوث ؟

.....

.....



٧- ادرس الخريطة التالية ثم أجب عما يليها من أسئلة /

أ-استخرجي من الخريطة ثلاث مواقع طبيعية جاذبة للسياحة ؟

ب-المحافظة التي تقع فيها محمية السلاحف

ج-توجه فوج سياحي لمحافظة الوسطى تمكن من مشاهدة مواقع سياحية بيئية متباينة مثل

.....

د- ما نوع الحياة الفطرية التي تتميز بها البيئة في محافظة مسندم ؟

.....

١٠- اذكر أهم بنود قانون (حماية البيئة ومكافحة التلوث) ؟

.....

.....

١١- اكتب أهم الإجراءات والتشريعات التي اصدرتها السلطنة من أجل مكافحة التلوث في المجالات الموضحة

بالجدول التالي /

م	المجال	الاجراءات
١	مياه الشرب	
٢	البيئة البحرية	
٣	الغلاف الجوي	



الملاحظات



مهامون
منصة مهامون التعليمية



@2XNZI

إعداد : الأنس الفليتيّة

zadelm.com